

Caderno de Provas

P 06 - NS

**ENFERMEIRO DO PROGRAMA SAÚDE DA
FAMÍLIA - PSF**

**EDITAL nº. 001/2018-PREFEITURA MUNICIPAL
DE SANTANA DO MATOS/RN**

05 de agosto de 2018

INSTRUÇÕES GERAIS PARA A REALIZAÇÃO DA PROVA

- Use apenas caneta esferográfica de material transparente com tinta de cor azul ou preta.
- Escreva o seu nome completo e o número do seu documento de identificação no espaço indicado nesta capa.
- A prova terá duração máxima de 3 (três) horas, incluindo o tempo para responder a todas as questões do **Caderno de Provas** e preencher as **Folhas de Respostas**.
- Antes de retirar-se definitivamente da sala, entregue as **Folhas de Respostas** ao fiscal.
- O **Caderno de Provas** somente poderá ser levado depois de transcorridas 3 (três) horas do início da aplicação da prova.
- Este **Caderno de Provas** contém TRINTA questões de múltipla escolha assim distribuídas: 01 a 10 - Língua Portuguesa ; 11 a 15 - Raciocínio Lógico; 16 a 30 - Conhecimentos Específicos.
- Se o **Caderno de Provas** contiver alguma imperfeição gráfica que impeça a leitura, comunique isso imediatamente ao fiscal.
- Você será avaliado exclusivamente por aquilo que marcar dentro dos espaços destinados às respostas na **Folha de Respostas**.
- Cada questão de múltipla escolha apresenta apenas uma resposta correta.
- Questões marcadas em duplicidade, rasuradas ou preenchidas diferentemente das orientações contidas no cartão de respostas anulará a questão.
- Os rascunhos e as marcações feitas neste **Caderno de Provas** não serão considerados para efeito de avaliação.
- Interpretar as questões faz parte da avaliação; portanto, não adianta pedir esclarecimentos aos fiscais.
- O preenchimento da **Folha de Respostas** é de inteira responsabilidade do candidato.
- A quantidade de questões e respectivas pontuações desta prova estão apresentadas a seguir:

<i>Disciplina</i>	<i>Número de questões</i>	<i>Pontos</i>
Língua Portuguesa (Objetivas)	10 questões	30 pontos
Raciocínio Lógico (Objetivas)	05 questões	10 pontos
Conhecimentos Específicos (Objetivas)	15 questões	60 pontos
Total de questões	30 questões	100 pontos

NOME COMPLETO DO CANDIDATO:

IDENTIFICAÇÃO Nº RG:

QUESTÕES DE LÍNGUA PORTUGUESA

As questões de 1 a 10 referem-se ao texto reproduzido a seguir.

Obesidade atinge um em cada cinco adultos no país, diz Ministério da Saúde

A epidemia de obesidade no Brasil começa a dar sinais de estagnação. Dados inéditos do Ministério da Saúde obtidos pelo jornal "O Estado de S. Paulo" mostram que a explosão de casos assistida na última década perdeu ritmo nos dois últimos anos. "Os indicadores apontam para uma tendência de estabilização entre a população das capitais", afirma a diretora do Departamento de Vigilância de Doenças e Agravos Não Transmissíveis do Ministério da Saúde, Maria de Fátima Marinho de Souza.

Os números, no entanto, estão longe de ser tranquilizadores. "Os patamares ainda são muito elevados. Mais do que nunca é preciso reforçar a prevenção", constata. Entre as medidas consideradas cruciais, estão mudanças nas regras de rótulos de alimentos, para que a população possa fazer escolhas mais conscientes, e políticas que permitam maior acesso a frutas e hortaliças.

A pesquisa do Ministério da Saúde mostra que 18,9% da população acima de 18 anos das capitais brasileiras é obesa. O percentual é 60,2% maior que o obtido na primeira vez que o trabalho foi realizado, em 2006. Naquele ano, 11,8% dos entrevistados estavam com Índice de Massa Corporal (IMC) acima de 30. Embora bastante elevados, sobretudo quando comparados com outros países da América do Sul, os indicadores são os mesmos obtidos em 2015.

"Daí a indicação de que a velocidade da expansão começa a cair", afirma Maria de Fátima. O mesmo ocorre com o excesso de peso. Em 11 anos, a expansão da população com peso acima do considerado ideal foi de 26,8%. De 2015 para 2017, contudo, os indicadores permaneceram estáveis. Há três anos, 53,9% da população estava acima do peso. No dado mais recente, 54%. Uma nova pesquisa deverá ter início no fim do ano para comprovar esses dados. No novo estudo, voluntários terão seu peso medido pelos entrevistadores.

Os sinais de estabilização de sobrepeso e obesidade nos últimos dois anos vêm acompanhados de mudanças no comportamento do brasileiro. Ele hoje consome menos refrigerante e bebidas adoçadas que na última década e se exercita um pouco mais. Em 10 anos, a queda do consumo de bebidas foi de 52,8%. Em 2007, 30,9% dos moradores das capitais faziam uso regular desses produtos. Agora, o comportamento é citado por 14,6%.

"Houve uma queda importante, mas o consumo no País ainda é muito alto", afirma a coordenadora de Alimentação e Nutrição do Ministério da Saúde, Michele Lessa. Sobretudo entre a população mais jovem. Na faixa entre 18 e 24 anos, 22,8% consomem refrigerantes e bebidas adoçadas regularmente. "Do ponto de vista nutricional, esses produtos não trazem nenhuma vantagem e têm grande concentração de açúcares. O ideal seria reduzir ao máximo o consumo", afirma Michele. A faixa etária mais jovem é a que mais ingere essas bebidas e, ao mesmo tempo, a que apresentou menor redução de consumo no período analisado: 43,17%

O raciocínio vale ainda para a melhora nos indicadores de consumo de frutas e hortaliças. Os números avançaram positivamente, mas ainda não alcançaram a meta ideal. Entre a população de 18 a 24 anos a ingestão recomendada de pelo menos cinco porções por semana desses alimentos subiu 25%. Mesmo assim, apenas 19,63% consomem esses alimentos nessa frequência. Os números vão melhorando com o passar dos anos de vida. Dos entrevistados com mais de 65 anos, 26,9% fazem o consumo desses alimentos na proporção recomendada.

Além da alimentação, os indicadores de atividade física também melhoraram. Houve um aumento de 24% de pessoas que afirmam se exercitar de forma leve ou moderada. "Todos esses indicadores precisam melhorar. O ideal é que toda população coma ao menos cinco porções de frutas e hortaliças por dia. E que se exercite de forma moderada, mas frequente", avalia Maria de Fátima.

A tarefa, no entanto, não é fácil. "Há dificuldades de acesso, sem falar em preços", diz. Batizada de Vigitel, a pesquisa do Ministério da Saúde é feita por telefone, com população acima de 18 anos residente nas capitais do País. As informações são do jornal O Estado de S. Paulo.

Disponível em: <<https://www.correiobraziliense.com.br>>. Acesso em: 20 jun. 2018.

01. O texto, de forma preponderante, objetiva

- A) criticar a fragilidade das pesquisas sobre obesidade na área da saúde.
- B) explicar os motivos pelos quais a obesidade é um problema epidêmico.
- C) divulgar informação de interesse público sobre o problema da obesidade.
- D) apontar caminhos para criação de políticas de prevenção à obesidade.

02. Nos parágrafos 2 e 4, há a ocorrência de citações do discurso alheio

- A) de autores distintos, sob forma transcrição literal das palavras do autor citado.
- B) de um mesmo autor, sob forma de paráfrase das palavras do autor citado.
- C) de autores distintos, sob forma de paráfrase das palavras do autor citado.
- D) de um mesmo autor, sob forma transcrição literal das palavras do autor citado.

03. Considerando-se a progressão discursiva do texto, é correto afirmar que o parágrafo:

- A) 2 acrescenta uma nova ideia central que estabelece com a ideia do parágrafo 1 uma relação de contraposição.
- B) 2 tão somente continua o desenvolvimento da ideia central do parágrafo 1.
- C) 8 acrescenta uma nova ideia central que estabelece com o parágrafo 7 uma relação de comparação.
- D) 8 tão somente continua o desenvolvimento da ideia central do parágrafo 7.

04. Considere o trecho:

Em 11 anos, a expansão da população com peso acima do considerado ideal foi de 26,8%. De 2015 para 2017, **contudo**, os indicadores permaneceram estáveis.

A palavra em destaque inter-relaciona

- A) períodos e poderia ser substituída, mantendo-se a mesma relação semântica, por **no entanto**.
- B) orações e poderia ser substituída, mantendo-se a mesma relação semântica, por **entretanto**.
- C) períodos e poderia ser substituída, mantendo-se a mesma relação semântica, por **portanto**.
- D) orações e poderia ser substituída, mantendo-se a mesma relação semântica, por **conquanto**.

05. Sobre a linguagem do texto, é correto afirmar que há:

- A) marcas da linguagem oral ao longo do primeiro parágrafo.
- B) o predomínio de estruturas que caracterizam a escrita formal.
- C) o predomínio de um jargão típico de profissionais da área da saúde.
- D) marcas de uma linguagem que identifica uma faixa etária específica.

06. Considere o título do texto:

Obesidade atinge um em cada cinco adultos no país, diz Ministério da Saúde

A estrutura do título autoriza inferir que

- A) a informação de que a obesidade atinge um em cada cinco adultos é de responsabilidade do autor do texto.
- B) a obesidade sempre atingiu e continuará a atingir adultos, no Brasil, na relação de um para cada grupo de cinco.
- C) a obesidade nem sempre atingiu os adultos na relação de um para cada grupo de cinco.
- D) a informação de que a obesidade atinge um em cada cinco adultos pode ser verdadeira ou não.

07. Considere o período:

Ele hoje consome menos refrigerante e bebidas adoçadas que na última década e se exercita um pouco mais.

Considerando-se as relações sintático-semânticas da língua portuguesa, outra pontuação coerente para esse período é:

- A) Ele hoje, consome menos refrigerante e bebidas adoçadas que na última década, e se exercita um pouco mais.
- B) Ele hoje consome menos refrigerante e bebidas adoçadas, que na última década, e se exercita um pouco mais.
- C) Ele, hoje, consome menos refrigerante e bebidas adoçadas que na última década e se exercita um pouco mais.
- D) Ele, hoje consome, menos refrigerante e bebidas adoçadas que na última década e se exercita um pouco mais.

08. Considere os trechos

1 [...] políticas **que permitam maior acesso a frutas e hortaliças.**

2 Dados inéditos do Ministério da Saúde obtidos pelo jornal "O Estado de S. Paulo" mostram **que a explosão de casos assistida na última década perdeu ritmo nos dois últimos anos.**

As estruturas destacadas em 1 e em 2 apresentam, respectivamente, o valor de

- A) advérbio e de substantivo.
- B) adjetivo e de substantivo.
- C) substantivo e de advérbio.
- D) substantivo e de adjetivo.

09. É correto afirmar que o texto apresenta a dominância de estrutura

- A) explicativa, com temática que se insere na esfera da ciência, mas sem usar linguagem científica e, por isso, é um artigo informativo.
- B) argumentativa, com temática que se insere na esfera jornalística, mas sem usar linguagem técnica e, por isso, é um artigo de opinião.
- C) descritiva, com temática que se insere na esfera jornalística, mas sem usar linguagem estritamente formal e, por isso, é uma crônica.
- D) narrativa, com temática que se insere na esfera da ciência, mas sem usar linguagem técnica e, por isso, é um relato.

10. Considere o período:

Os sinais de estabilização de sobrepeso e obesidade nos últimos dois anos **vêm** acompanhados de mudanças no comportamento do brasileiro.

A grafia da palavra em destaque é justificada pela concordância com

- A) “dois anos”, que é predicativo do sujeito”.
- B) “sobrepeso e obesidade”, que é núcleo do predicado.
- C) “mudanças”, que é predicativo do objeto.
- D) “sinais”, que é núcleo do sujeito.

QUESTÕES DE LÓGICA

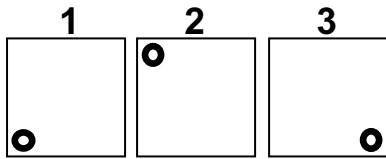
11. Dentre os servidores de nível superior de uma prefeitura estão 3 advogados, 3 contadores, 6 psicólogos e 8 médicos. Dentre esses, serão selecionados ao acaso três servidores para formar uma comissão. A probabilidade de nessa comissão existir apenas um médico é de, aproximadamente,
- A) 44%.
B) 42%.
C) 46%.
D) 40%.
12. Na sequência numérica 11, 13, 17, 25, 32, ..., o número 95 é o 11º elemento. Mantendo-se a lógica de formação da sequência, a soma do 16º e do 17º elementos é igual a
- A) 276.
B) 291.
C) 312.
D) 336.
13. Analise as três afirmações do quadro a seguir:

Alberto é Dentista ou Bruna não é Farmacêutica.
Se Bruna não é Farmacêutica, então Daniela é Assistente Social.
Ou Carlos não é Veterinário, ou Daniela não é Assistente Social.

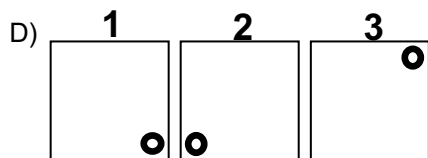
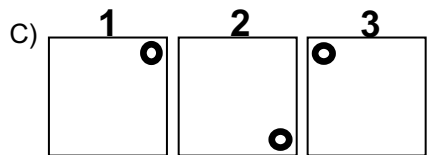
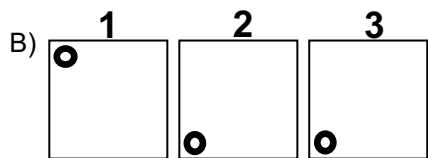
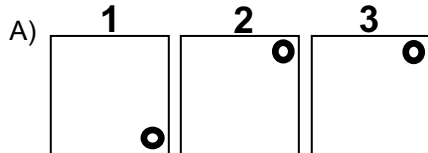
Se todas as afirmações são verdadeiras e Carlos é Veterinário, então, a afirmação que tem valor lógico verdadeiro é

- A) se Carlos é Veterinário, então Bruna não é Farmacêutica.
B) Alberto é Dentista e Bruna não é Farmacêutica.
C) Daniela é Assistente Social ou Alberto não é Dentista.
D) se Daniela é Assistente Social, então Bruna não é Farmacêutica.
14. Temos quatro pessoas, uma atrás da outra, em uma fila de banco. Dois homens estão um na frente do outro. Uma pessoa de cabelos loiros está na frente de uma pessoa de cabelos ruivos. Uma mulher está na frente de um homem. Alguém de cabelos ruivos está atrás de uma pessoa de cabelos pretos. Uma pessoa de cabelos ruivos na frente de alguém com cabelos pretos. Uma mulher está atrás de um homem. Logo, esta fila está formada por
- A) uma mulher de cabelos pretos, um homem de cabelos ruivos, um homem de cabelos pretos e uma mulher de cabelos loiros.
B) uma mulher de cabelos loiros, um homem de cabelos ruivos, uma mulher de cabelos pretos e um homem de cabelos ruivos.
C) uma mulher de cabelos loiros, um homem de cabelos ruivos, um homem de cabelos pretos e uma mulher de cabelos ruivos.
D) uma mulher de cabelos ruivos, um homem de cabelos pretos, um homem de cabelos loiros e uma mulher de cabelos pretos.

15. Observe os quadrados 1, 2 e 3 abaixo e as marcações em seus interiores



Cada um deles pode ser girado em torno de seu centro. Se os quadrados 1 e 3 só giram em sentido horário e o quadrado 2 só gira em sentido anti-horário, após cada um deles dar um giro de 270° a organização dos quadrados será



QUESTÕES DE CONHECIMENTOS ESPECÍFICOS

16. Em conformidade com a lei n° 7.498, de 25 de junho de 1986, que dispõe sobre a Regulamentação do Exercício da Enfermagem e dá outras providências, são atividades **privativas** do enfermeiro

- A) prevenção e controle sistêmico de danos que causados à clientela na assistência de enfermagem.
- B) participação em projetos de construção ou reforma de unidades de internação.
- C) organização e direção dos serviços de enfermagem e de suas atividades técnicas e auxiliares nas empresas prestadoras destes serviços.
- D) prescrição de medicamentos estabelecidos em programas de saúde pública e em rotina aprovada pela instituição de saúde.

17. Nos termos da Sistematização da Assistência de Enfermagem (SAE) deliberada pela resolução do COFEN nº 358/2009, o processo de enfermagem deve ser organizado em 5 etapas, que devem ser

- A) inter-relacionadas, dependentes e recorrentes.
- B) interdependentes, suplementares e continuadas.
- C) interdependentes, complementares e continuadas.
- D) inter-relacionadas, interdependentes e recorrentes.

18. Tratando-se, especificamente, das **competências da direção municipal** do Sistema Único de Saúde (SUS), nos termos da Lei nº8080/90, executam-se serviços de

- A) acompanhamento, controle e avaliação das redes hierarquizadas do Sistema Único de Saúde (SUS).
- B) saneamento básico e de alimentação e nutrição.
- C) estabelecimento de normas, em caráter suplementar, para o controle e avaliação das ações e serviços de saúde.
- D) formulação, avaliação e apoio de políticas de alimentação e nutrição.

19. Na Unidade Básica de Saúde (UBS), foi prescrito pelo médico **40** UI de insulina NPH, a uma adolescente de 15 anos, por via subcutânea (SC). A enfermeira verificou que, na farmácia da unidade, apenas teriam seringas hipodérmicas de 3 ml, agulha 13 x 4,5 e frascos de insulina (U – 100 em 10 ml), ou seja, a cada 100UI/ml.

Para obter a quantidade prescrita, deve ser aspirado

- A) 4 ml.
- B) 0,4 ml.
- C) 0,3ml.
- D) 3ml.

20. É competência da rede de atenção básica, especialmente da Estratégia Saúde da Família. Realizar ações educativas em saúde que podem ser desenvolvidas em parceria com a comunidade escolar.

Nessa perspectiva, as ações de educação em Saúde na Escola visam

- A) adaptar os materiais encaminhados para as escolas pelo MS/MEC, pois são desatualizados.
- B) realizar ações supletivas sem temática pré-definida avaliando necessidades não informadas.
- C) eixos formadores a serem executados pela atenção básica, sendo prioritária a articulação com universidades, organizações não governamentais, setor privado e outros agentes sociais, atuantes como parceiros para o desenvolvimento de ações integrantes do currículo escolar por meio de práticas transversais e complementares, em caráter, exclusivamente opcional no contraturno, considerando a disponibilidade de profissionais e as diferenças culturais e sociais dos alunos.
- D) pontos prioritários a serem desenvolvidos com a comunidade escolar, incluindo as temáticas de promoção da alimentação saudável, higiene bucal, prevenção de violências e acidentes, prevenção e redução do consumo abusivo de álcool e outras drogas, prevenção das DST/AIDS, promoção da saúde sexual e saúde reprodutiva, controle do tabagismo, promoção de práticas corporais/atividade física, promoção da cultura da paz, projeto de vida, saúde do trabalhador, entre outros.

21. De acordo com a Nota Informativa 135/2017, o Calendário Nacional de Vacinação 2018 atualiza a administração da vacina Varicela (atenuada) adicionando uma 2ª dose, após administração da 1ª dose (15 meses), para a faixa etária de

- A) 9 a 14 anos, 11 meses e 29 dias.
- B) 11 a 14 anos, 11 meses e 29 dias.
- C) 4 a 6 anos, 11 meses e 29 dias.
- D) 3 a 5 anos, 11 meses e 29 dias.

22. No dia 24/08/2017, a paciente MDS de 17 anos chegou à Unidade Básica de Saúde (UBS) para a primeira consulta do pré-natal. A enfermeira solicitou os exames de rotina e realizou o cálculo da idade gestacional e a data provável do parto de acordo com a Regra de Naegle, considerando a DUM em 15/06/17.

Assinale a opção que apresenta corretamente a idade gestacional e a data provável do parto, respectivamente.

- A) 10 semanas e 22/03/2018.
- B) 12 semanas e 24/03/2018.
- C) 09 semanas e 21/01/2018.
- D) 10 semanas e 22/04/2018.

23. A tuberculose (TB), não só acomete o pulmão, como outros órgãos e assim sob diferentes apresentações clínicas, manifesta outros sinais e sintomas geralmente ligados ao local afetado. Sendo assim, o enfermeiro deve valorizar na investigação diagnóstica individualizada todas as queixas relatadas.

A tríade dor torácica, tosse seca e dispneia são os principais sintomas da TB

- A) pleural.
- B) meningoencefálica.
- C) pericárdica.
- D) óssea.

24. Em todas as visitas domiciliares, é fundamental que o profissional de saúde saiba identificar sinais de perigo à saúde da criança. As crianças menores de 2 meses podem adoecer e morrer em um curto espaço de tempo por infecções bacterianas graves.

São sinais que indicam a necessidade de encaminhamento da criança ao serviço de referência com urgência

- A) vômitos importantes (vomita tudo o que ingere) e apresenta letargia ou inconsciência.
- B) expansibilidade torácica com movimentos simétricos das mãos durante a verificação da expansibilidade pulmonar e murmúrios bronquiais audíveis sobre a traquéia.
- C) frequência compatível com a idade e com o pulso radial e perfusão sanguínea periférica presente.
- D) assincronia entre os movimentos respiratórios abdominais e torácicos, assim como batimentos cardíacos nítidos e claros nos quatro focos de ausculta (aórtico, pulmonar, tricúspide e mitral).

25. As Infecções Sexualmente Transmissíveis (IST) são causadas por vírus, bactérias ou outros microrganismos.

De acordo com o Ministério da Saúde, além do preservativo, duas outras formas de prevenção dessas infecções são a

- A) fazer uso de espermicida e dispositivo intra-uterino – DIU.
- B) coito interrompido e espermicida.
- C) diafragma e espermicida.
- D) imunização para HPV e hepatite B.

26. A Portaria n° 1.944, de 27 de agosto de 2009 institui, no âmbito do Sistema Único de Saúde (SUS), a Política Nacional de Atenção Integral à Saúde do Homem, que visa promover a melhoria das condições de saúde da população masculina brasileira.

De acordo com o Art. 7º dessa Portaria, é responsabilidade institucional da União

- A) Implementar e avaliar, no âmbito de sua competência, a Política Nacional de Atenção Integral à Saúde do Homem, priorizando a atenção básica com foco na estratégia de Saúde da Família.
- B) coordenar e fomentar, em âmbito nacional, a implementação e acompanhar a implantação da Política Nacional de Atenção Integral à Saúde do Homem.
- C) elaborar e pactuar, no âmbito estadual, protocolos assistenciais, em consonância com as diretrizes nacionais da atenção, apoiando os Municípios na implementação desses protocolos.
- D) implantar e implementar protocolos assistenciais, em consonância com as diretrizes nacionais e estaduais.

27. A enfermeira está diante de um quadro de suspeita de dengue, cujo paciente é um homem adulto, sem sinal de alarme e/ou choque e nem apresenta sangramento espontâneo.

A prova do laço será positiva se houver

- A) 10 ou mais petéquias.
- B) 05 ou mais petéquias.
- C) 20 ou mais petéquias.
- D) 18 ou mais petéquias.

28. Um homem é atacado por um cachorro com suspeita de raiva, o que deve gerar notificação compulsória, de acordo com a portaria N° 204, de 17 de fevereiro de 2016,

- A) à Secretária Estadual de Saúde (SES) do local do atendimento.
- B) à Secretária Municipal de Saúde (SMS) do local do atendimento.
- C) ao Ministério da Saúde (MS).
- D) ao Conselho Estadual de Saúde (CES).

29. De acordo com as novas recomendações da American Heart Association de 2017, a respeito do suporte básico de vida, um socorrista treinado em compressões e ventilações deve utilizar a Ressuscitação Cardiopulmonar (RCP) na parada Cardiorespiratória (PCR) de um adulto da seguinte maneira:
- A) 30:2 sem interromper compressões torácicas, para realizar as ventilações.
 - B) 30:2, com paradas para ventilações.
 - C) 15:2 com paradas para ventilações, para dois socorristas.
 - D) 15:2 sem interromper compressões torácicas, para um socorrista.
30. A finalidade primordial da Política Nacional de Saúde da Pessoa Idosa é
- A) relacionar a funcionalidade global e definir a capacidade de assistir o idoso em suas necessidades.
 - B) executar políticas de saúde que respondam às necessidades das pessoas idosas.
 - C) promover igualdade social e de gênero entre os idosos.
 - D) recuperar, manter e promover a autonomia e a independência dos indivíduos idosos.